



# Отрезок. Луч. Прямая

---

## Графический диктант

5 класс

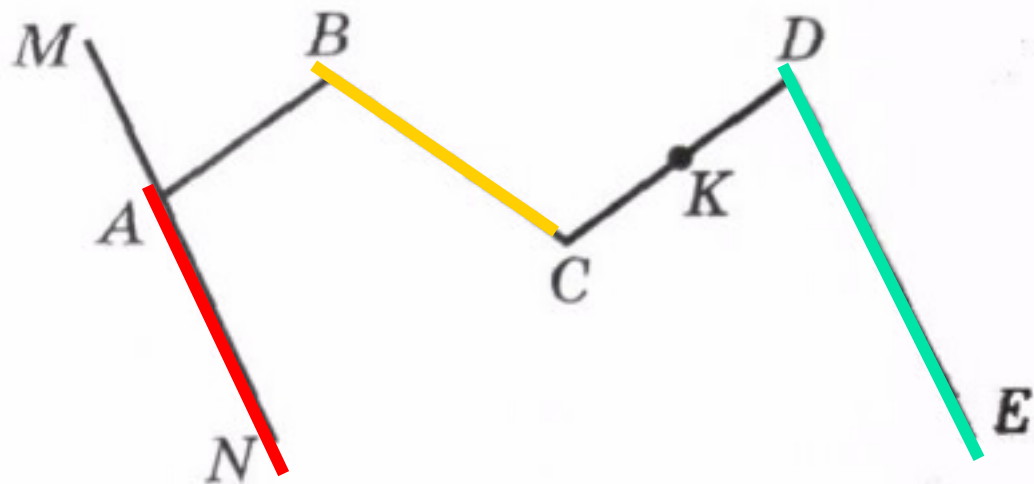

Учитель математики Коптева Е.М.

МОУ «Пустошинская СОШ»

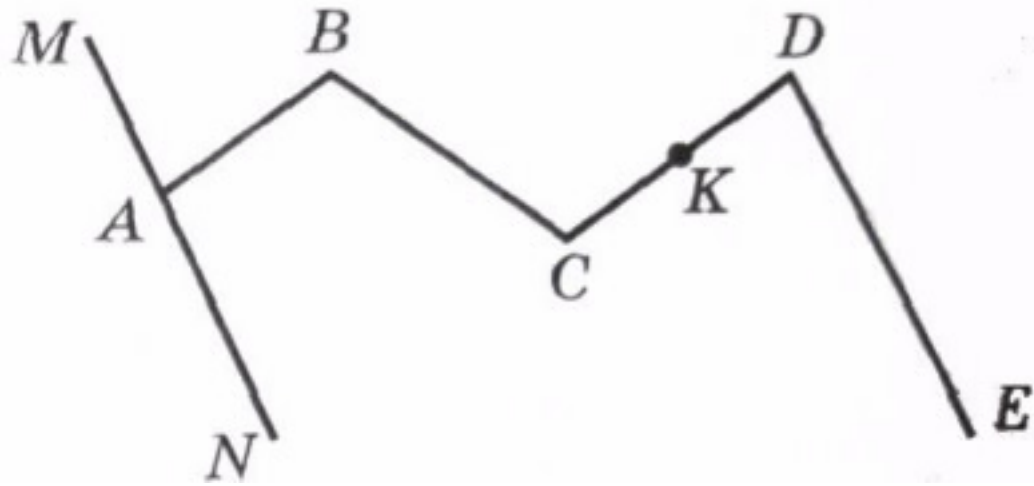
Приморский район

Архангельская область

2010



- 1)  $BC$  - отрезок;
- 2)  $AN$  - луч;
- 3)  $DE$  - прямая;
- 4)  $ABCD$  - ломаная;
- 5)  $MN$  - прямая;



6)  $CK + KD = CD$ ;

7)  $AB$  - *прямая*;

8)  $AB + BC + CD$  - *длина ломаной*;

9)  $MA$  - *луч*;

10)  $BCDE$  - *ломаная*.